













Chapitre 3 – Leçon 8

Exercices

Leçon 8 - Exercices

Exercice 3-5

Votre partenaire a ouvert d'1SA. Quel est le plancher, le plafond, et quelle sera votre enchère?

Votre main	Plancher	Plafond	Votre enchère
♠ A 8 6 2 ♥ D 7 4 ♦ D 9 6 ♣ V 10 3			
♠ R V 6 4 ♥ R 9 6 ♦ V 6 2 ♣ D V 6			
♠ V 5 2 ♥ D 6 3 ♦ R 9 6 ♣ D 6 5 3			
♠ D V 4 ♥ R V 5 2 ♦ V 6 3 ♣ V 9 4			

Exercice 3-6

Est-il possible d'affranchir des levées ? Pourquoi ?

R
N
O S E
S
D




D 2
N
O S E
S
V 4

V 9 8
N
O S E
S
10 5 2

V 10 9 8
N
O S E
S
7 4 2

Exercice 3-7

Pour chacune des couleurs suivantes, indiquez le nombre de levées que vous pouvez affranchir et le nombre de fois où il faut rendre la main à l'adversaire :

1	2	3	4	5
V 9 6 3  10 8 5	D 9 4  V 10 8 7	R V 6  D 10 9 8 7	D V 5  10 9 8 7 6 4	R 8  D 4 2
